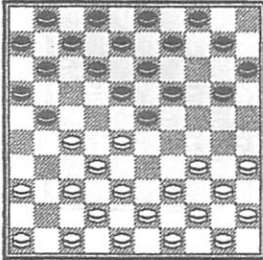


1. Centrumspel

1.1 Combineren

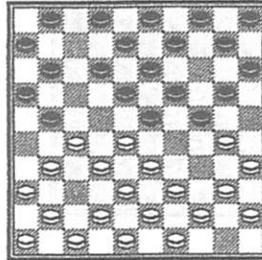
SERIE A: Oplossen onder tijdsdruk: je krijgt tien minuten. Noteer de eerste twee zetten van de kleur die de combinatie uitvoert.

diagram 1




Wit wint.

diagram 2



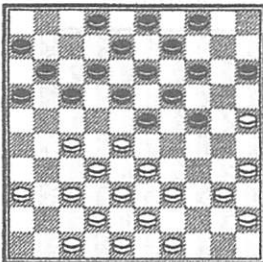
20-25?

diagram 3



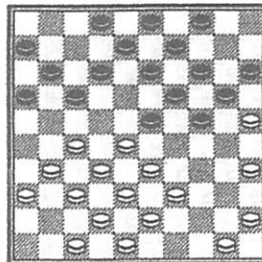
Dam zwart.

diagram 4



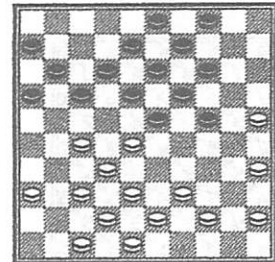
39-34? 40-34?

diagram 5



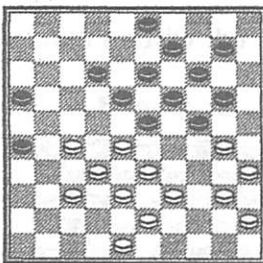
Wit wint.

diagram 6



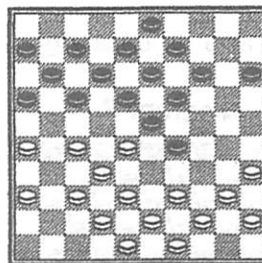
Zwart wint.

diagram 7



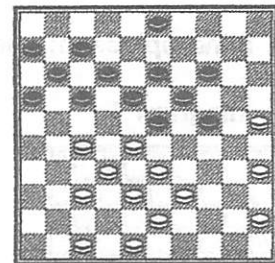
20-25?

diagram 8



Zwart wint.

diagram 9

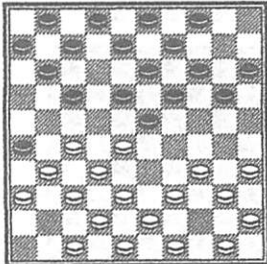


Zwart wint.

Thema 1

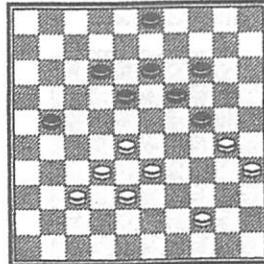
SERIE B: De aangegeven kleur is aan zet: wat speel je? Er kan voor die kleur een forcing of een combinatie in zitten. Maar het kan ook zijn dat je op moet letten niet in een combinatie te lopen. Tijd: vijftien minuten.

diagram 1



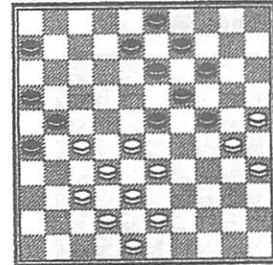
Wit.

diagram 2



Wit.

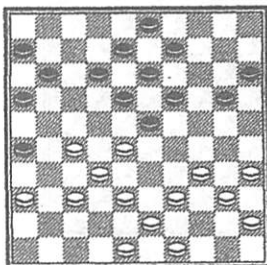
diagram 3



Wit.

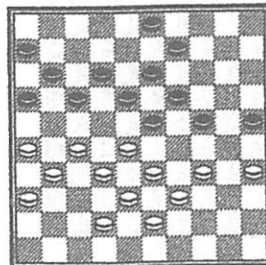
SERIE C: Is de aangegeven zet of combinatie goed of fout? Tijd: vijftien minuten.

diagram 1



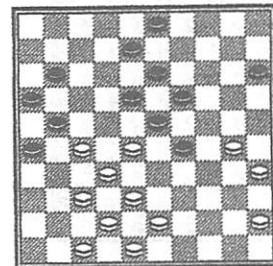
12-17: goed of fout?

diagram 2



Dam zwart goed?

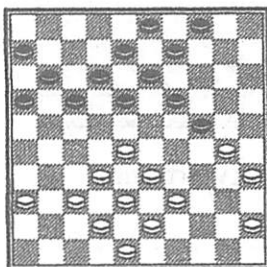
diagram 3



Dam wit goed?
En met 11 op 17?

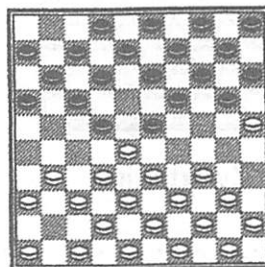
SERIE D: Blind oplossen: zoek de combinatie na de aangegeven zetten. Tijd: vijftien minuten.

diagram 1



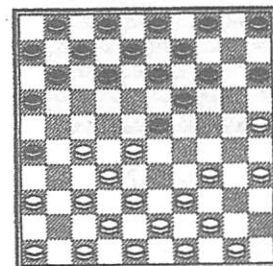
17-21; 37-31; 21-26?

diagram 2



46-41; 13-18; 31-27; 22x31;
36x27?

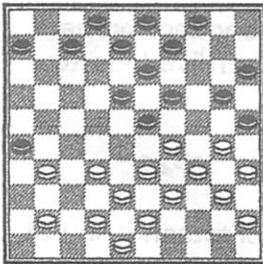
diagram 3



15-20; 34-29; 23x34;
39x30; 5-10?

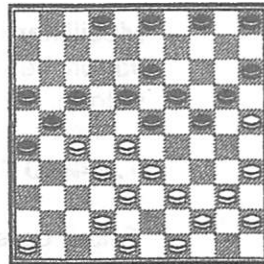
SERIE E: Noteer de overblijvende stand in het lege diagram. Tijd: vijftien minuten.

diagram 1



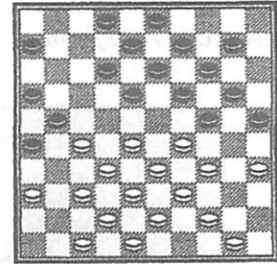
- 1.33-28 26x46
- 2.30-24 19x30
- 3.28x19 13x44
- 4.40x49 46x40
- 5.35x24 20x29
- 6.45x1

diagram 2






- 1... 4-10
- 2.25x14 26-31
- 3.27x36 21-27
- 4.32x12 23x34
- 5.40x20 15x24
- 6.14x23 18x47

diagram 3



- 1.28-23 19x28
- 2.32x23 21x41
- 3.34-30 25x34
- 4.39x19 13x24
- 5.33-28 24x22
- 6.35-30 18x29
- 7.42-37 41x32
- 8.38x7 2x11
- 9.36-31 26x37
- 10.48-42 37x39
- 11.44x2

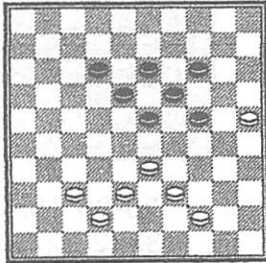


1.2 Rekenen



Opdracht 1

A. Andreiko - T. Sijbrands (1968)



Sijbrands staat met zwart schitterend met al zijn schijven in het centrum: Zwart heeft geen enkele randschijf; Zwart heeft wèl veel formaties; En met formaties zijn er altijd combinaties! Zwart heeft de belangrijke centrumvelden 23 en 24 in bezit.

En wit?

Wit heeft een slechte randschijf op 25. Wit heeft niet veel formaties. Wit heeft geen centrumvelden in bezit.

Zwart staat dus erg goed en Sijbrands zou Andreiko dan ook verslaan. Bij het diagram de volgende vragen voor je:


- A. Waarom mag 1.37-31 niet?
.....
- B. Waarom mag 1.37-32 niet?
.....
- C. Waarom mag 1.38-32 niet?
.....
- D. Waarom mag 1.39-34 niet?
.....

Allemaal simpele zetjes die zwart kan uithalen door zijn mooie formaties!

Moeilijker is de volgende vraag: probeer vanuit het diagram het partijverloop te volgen.

1. 44-40 12-17 2. 38-32 17-21

Teken de stand die nu ontstaan is in het volgende lege diagram.



- E. Hoe kan zwart dam halen na 3.37-31?
.....
- F. Door welke leuke combinatie gaat zwart winnen na 3.42-38 18-22! 4.37-31...
.....
.....
.....
.....
.....
.....
.....
.....
.....

Andreiko speelde daarom maar 3.33-28 maar je ziet vast wel hoe Sijbrands toen afwikkelde naar een gewonnen eindspel...